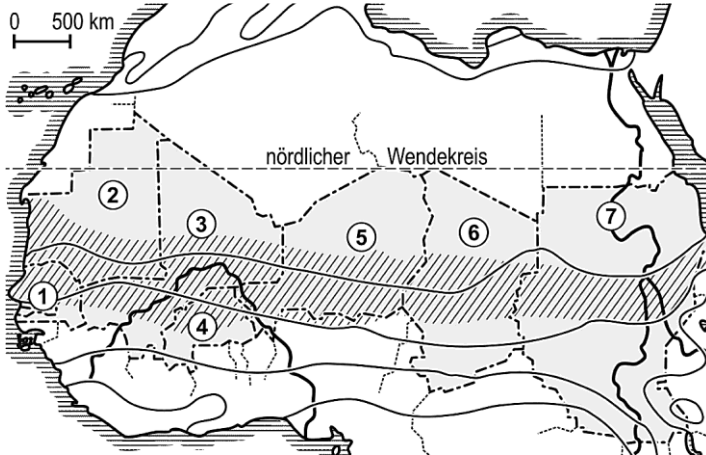


Natur- und Lebensraum Sahelzone



1 Sahelzone – Sahelstaaten




Auftrag 1: Nenne die sieben Sahelstaaten.

- 1 _____
- 2 _____
- 3 _____
- 4 _____
- 5 _____
- 6 _____
- 7 _____

2 Infotext: Karger Ackerbau – nomadische Viehwirtschaft

Aufgrund der geringen Jahresniederschläge entwickelten sich im Sahel zwei Nutzungsformen. Die ackerbauliche Nutzung gelang nur mit Pflanzen, die einen geringen Feuchte bedarf haben, vor allem Hirse, aber auch Erdnüsse und Maniok. Die Bodenbearbeitung erfolgte mit Hacken. Viehhirten konnten die Weidegebiete nur kurze Zeit nutzen. Deshalb zogen sie mit ihren Herden (Rinder, Ziegen, Schafe) von Weidegebiet zu Weidegebiet. Die Tiere versorgten die Nomaden mit Milch und Milchprodukten, Fleisch, Häuten und Wolle. Einen Teil ihrer Produkte tauschten sie bei den Hackbauern gegen Hirse ein.

Auftrag 2: Unterstreiche im Text wichtige Begriffe zur Wirtschaftsweise.



Die Wüste wächst

Du findest nachfolgend eine Problemsituation der Bauern, die am Rand der Wüste leben und deren Handlungsmöglichkeiten. **Auftrag 3:** Bewerte in der Tabelle mögliche Auswirkungen

3a) für die Versorgung der Familie sowie

3b) den Naturraum der Savanne. Beachte dabei die Überlegungen der Bäuerin.

Handlungsmöglichkeiten	Auswirkungen auf	
	a) Familie	b) Natur
1 Um die Familie richtig zu versorgen, werden Lasten getragen, welche die Gesundheit gefährden.		
2 Immer öfter muss die Tochter mit zum Holz sammeln, auch wenn sie dadurch weniger Zeit für die Schule hat als ihre Brüder.		
3 Es wird nicht nur dürres Holz gesammelt, sondern es werden auch schon mal grüne Äste abgeschlagen.		
4 Die Bäuerin kocht für zwei Tage, um das Feuer auszunutzen, auch wenn ihr die Vernachlässigung häuslicher Pflichten vorgeworfen wird.		

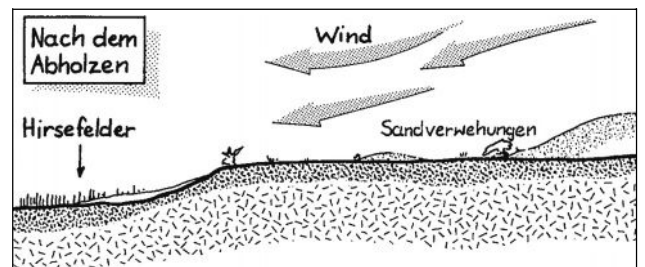



++ sehr positiv, + eher positiv, – eher negativ, -- sehr negativ

2 3c) Für welche Handlungsmöglichkeit wird sich die Bäuerin entscheiden?

Begründe:

3 3d) Man könnte leichtfertig sagen, die Bauern haben alleinige Schuld an der Ausbreitung der Wüste. Finde für diese Aussage Argumente, die adgegen sprechen!



④ a) Erkläre die Bedeutung der Holzgewächse für den Wasserhaushalt in der Savanne.

b) Begründe, warum es nach der Beseitigung der Holzgewächse zur Wüstenbildung kommt.

Auftrag 4:

Ergänze folgende Karte:

